

10. SINIF

4. DÖNEM DENEME

1

I. Ara Döneme Kadar Olan Konuları Kapsar.



**KAREKODU OKUT
VIDEO ÇÖZÜME ULAŞ**
(Herhangi bir karekod okuyucu ile okutabilirsiniz.)



ADI :
SOYADI :
SINIFI :

DİKKAT! SINAV BAŞLAMADAN ÖNCE AŞAĞIDAKİ UYARILARI MUTLAKA OKUYUNUZ.

1. Kitapçık ve cevap kâğıdındaki size ait bilgileri ilgili bölümlere doğru olarak kodlayınız. Aksi takdirde sınav sonuçlarınıza ulaşmakta sorunlar yaşayabileceğinizi unutmayınız.
2. Cevap kâğıdındaki tüm alanları kurşun kalem kullanarak ve kutucukların dışına taşırmdan belirgin olarak işaretleyiniz.



YAYIN KOORDİNATÖRÜ:

Ayça AKTAŞ DEMİRCAN

EDİTÖR:

Büşra KOCA

Mehmet Ali CEMİLOĞLU

DİZGİ:

Buse GÜNGÖR

TÜRKÇE : Jale KILIÇ ÖZGEN

TARİH: Mutlu YAMAN

COĞRAFYA: İsmail ÜNALDI

FELSEFE Engin ONÜÇ

**DİN KÜLTÜRÜ VE
AHLAK BİLGİSİ** Ergün İÇÖZ

MATEMATİK : Servet KAÇARAN

FİZİK: Mustafa KARA

KİMYA: Özlem BİLGE

BİYOLOJİ: Fatih SARI

Bu sınavın her hakkı yayınevine aittir.

Hangi amaçla olursa olsun, bu sınavın tamamının ya da bir kısmının, sınavı yayınlayan yayınevinin önceden izni olmaksızın elektronik, mekanik, fotokopi ya da herhangi bir kayıt sistemi ile çoğaltılması, yayınlanması ve depolanması yasaktır.

1. Bu testte toplam 30 soru vardır.
2. Cevaplarınızı, cevap kâğıdının Türk Dili ve Edebiyatı Testi için ayrılan kısmına işaretleyiniz.

1. Refik Halit Karay'ın *İstanbul'un İç Yüzü* adlı eserinde İttihat ve Terakki'nin iş başına gelmesinden Birinci Dünya Savaşı günlerine kadar olan İstanbul konu alınmıştır.

Bu cümleden yola çıkılarak edebiyatın hangi alanla olan ilişkisinden söz edilebilir?

- A) Coğrafya B) Din C) Felsefe
D) Tarih E) Psikoloji

2. Türk edebiyatının dönemlere ayrılmasında;
I. dinin,
II. tarihî olayların,
III. dil özelliklerinin,
IV. lehçe ve şive farklılıklarının,
V. yazarların ideolojilerinin etkisi olmuştur.

Numaralandırılmış ifadelerin hangisinde bilgi yanlışı vardır?

- A) I B) II C) III D) IV E) V

3. I. İslami Dönem Türk edebiyatı etkisinde gelişmesi
II. Eserlerin dilinin ağırlıklı olarak sade olması
III. Arapça ve Farsça kelimelerin sıkça kullanılması
gibi özelliklerden hangileri halk edebiyatı ve divan edebiyatının ortak özelliğidir?

- A) Yalnız I B) Yalnız II C) Yalnız III
D) I ve II E) II ve III

4. "Közden yıarsa gönülden de yeme yırar."

İfadesi Türk edebiyatının hangi dönemine ait olabilir?

- A) Sözlü Dönem
B) Divan Edebiyatı
C) Halk Edebiyatı
D) Tanzimat Dönemi
E) Servetifünun Edebiyatı

5. Sözlü iletişimin hazırlık aşamasında;
I. sorulara net cevaplar vermek,
II. konuyu belirlemek,
III. amacı tespit etmek,
IV. araştırma yapmak,
V. prova yapmak
gibi özelliklere dikkat etmek gerekir.

Buna göre numaralanmış ifadelerden hangisinde bilgi yanlış vardır?

- A) I B) II C) III D) IV E) V

6. I. *Heşt Behişt*
II. *Bengü Bade*
III. *Hüsrev ü Şirin*
IV. *Leyla ile Mecnun*
V. *Vesiletü'n-Necat*

Divan edebiyatına ait numaralanmış eserlerden hangisi mesnevi nazım şekliyle yazılmamıştır?

- A) I B) II C) III D) IV E) V

7. **Aşağıdaki eserlerden hangisinde İslamiyet'in etkisi vardır?**

- A) Sagu
B) Sav
C) Orhun Yazıtları
D) Divan-ı Hikmet
E) Koşuk

8. Oğuz Hanı "Dile benden ne dilersen." diye buyurdu. "Karnımı doyurmak isterim." dedi. Han dedi ki: "Bir günlük beyliğim onun olsun." öyle oldu. Bamsı Beyrek, yemek yedi; sonra sofraları, kazanları tekmeledi. Ardından kızların yanına gitti. Orada oyunlar oynandı. En sonunda Banu Çiçek, Bamsı Beyrek'i tanıdı. Babasına koşup müjdeyi verdiler. Babasının gözleri kör olmuştu. "Parmağını kanatsın, gözüme sürsün, oğlum ise gözüm açılır." dedi. Öyle yaptılar, gözleri açıldı. Yartaçuk bunu haber alınca kaçtı. Bamsı Beyrek peşine düştü, yakaladı. Aman dileyince bıraktı. Yiğitleri ile birlikte Bayburt Hisarı'na yollandılar. Cümle Oğuz Beyleri ardından devam ettiler. Yaman savaş oldu. Bayburt Hisarı zapt edildi.

Bu parça aşağıdaki eserlerin hangisinden alınmış olabilir?

- A) Leyla ile Mecnun
B) Kerem ile Aslı
C) Hârnâme
D) Dede Korkut Hikâyeleri
E) Memleket Hikâyeleri

9. Halk hikâyeleri ile ilgili aşağıdaki bilgilerden hangisi yanlıştır?

- A) Konuşma dili özelliklerine yer verilmiştir.
- B) Göçebe hayattan yerleşik hayata geçişin ilk ürünleridir.
- C) Mensur metinlerdir, manzum anlatıma yer verilmez.
- D) Gelişiminde tarihî olayların etkisi vardır.
- E) Genellikle aşk ve kahramanlık konuları anlatılmıştır.

10. Bamsı Beyrek ve Banu Çiçek beşik kertmesidir ancak birbirlerini tanımazlar. Ayrı ayrı avlanırken karşılaşırlar, aralarında bir anlaşmazlık yüzünden gürüşe tutuşurlar ancak ikisi de güçte denk olduğu için birbirlerine üstünlük kuramazlar. Bamsı Beyrek, kendisini izleyen kırk yiğidin kendisini ayıplamaması için Banu Çiçek'e bir yumruk atar ve onu yener. Bamsı Beyrek'in esir düşmesiyle iki genç on altı yıl ayrı kalır. Bu sürede Banu Çiçek evlenmek zorunda kalır. Düğün günü Bamsı Beyrek gelerek Banu Çiçek'i tekrar alır. Yıllar sonra Aruz, Bamsı Beyrek'i dostça obasına çağırır ancak pusu kurmuştur. Onu yakalatıp sağ kolunu keser.

Yukarıda Kam Püre Oğlu Bamsı Beyrek hikâyesinin özeti verilmiştir.

Buna göre, Dede Korkut Hikâyeleri ile ilgili,

- I. Türk kültüründe kadınların erkeklerle eşit görül-
düğü,
- II. Kahramanların yenilmez olağanüstü varlıklar
olarak gösterilmediği,
- III. Dinî motiflerin, halk kültürüne, halkın yaşam biç-
mine yoğun bir şekilde girdiği,
- IV. Anlatılan olay ve durumların tamamen hayal ürü-
nü olduğu

değerlendirmelerinden hangileri yapılamaz?

- A) Yalnız IV B) I ve III C) II ve III
- D) II ve IV E) III ve IV

11. Cenknâmeler ile ilgili olarak aşağıdaki cümlele-
rin hangisinde bilgi yanlışı vardır?

- A) Müslim-gayrimüslim mücadelesi anlatılır.
- B) Tarihî olayları nesnel bir bakış açısıyla neden -
sonuç ilişkisiyle anlatır.
- C) Nazım-nesir karışık olarak yazılmıştır.
- D) Hayalî varlıklara yer verilmiştir.
- E) Türk destan geleneğinin özelliklerini yansıtır.

12. I. 15. yüzyılda yazıya geçirilmiş olan eserde öğüt niteliğinde hikmetli sözler, Türk töresine ait birçok töre, Türk tarihine ait birtakım bilgiler işlenmiştir.
- II. Oğuzların çevre boylarıyla yaptığı mücadeleler destansı bir hava içinde olağanüstü birtakım unsurlarla da desteklenerek verilmiştir.
- III. Hikâyelerde birbirine âşık olan gençler genellikle kavuşamaz, araya giren kötü niyetli insanlar iki âşığın birbirine kavuşamaması için türlü büyüler yaparlar.
- IV. İslâmî öğelere hiç yer verilmeyen hikâyelerde Şamanizm'in etkileri önemli ölçüde kendini göstermektedir.

Yukarıdaki numaralanmış bilgilerden hangileri Dede Korkut Hikâyeleri ile ilişkilendirilemez?

- A) Yalnız III B) Yalnız IV C) I ve II
- D) I ve III E) III ve IV

13 -14. soruları aşağıdaki parçaya göre cevaplayınız.

Lafımı tamamlayamadım. Derin hıçkırıklar içinde boğuluyordum. Ağlaya ağlaya Pervin'e anlattım. Şimdi babama söylersen Hasan da duyacaktı. Belki beni affedecekti.

- Yarın söylersin, dedi.
- Hayır, şimdi gideceğim.
- Şimdi baban uyuyor. Yarın sabah söylersin, Hasan da duyar. Onu öpersin, ağlarsın, seni affeder.
- Pekala.
- Haydi şimdi uyu.
- ...

Sabaha kadar yine gözlerimi kapayamadım. Hava henüz ağarıırken Pervin'i uyandırdım.Kalktık. Ben içimdeki zehirden azabı boşaltmak için acele ediyordum. Yazık ki zavallı masum kardeşim o gece ölmüştü. Sofada çiftlik imamıyla Dadaruh'u ağlarken gördük. Babamın dışarıya çıkmasını bekliyorlardı.

13. Bu parçanın anlatım özellikleri için aşağıdakilerden hangisi söylenemez?

- A) Diyaloglara yer verilmiştir.
- B) Bir olay anlatılmaktadır.
- C) Gerçekçi bir anlatımla yazılmıştır.
- D) Dönemin zihniyetini yansıtmaktadır.
- E) Gözlemci bakış açısıyla yazılmıştır.

14. Bu parçanın anlatım biçimi aşağıdakilerden hangisidir?

- A) Betimleyici
- B) Tartışmacı
- C) Öyküleyici
- D) Öğretici
- E) Açıklayıcı

- 15. Olay, kişi, yer ve zaman gibi yapı unsurları;**
- I. mesnevilerde,
 - II. hikâyelerde,
 - III. gazelerde
- bulunmaktadır.

Numaralanmış öncüllerden hangilerinde bilgi yanlışı vardır?

- A) Yalnız I B) Yalnız II C) Yalnız III
- D) I ve II E) II ve III

- 16. Bu hıyabanda fikr-i şairaneye mirkat-i itila olacak kadar meşe gibi, şimşir gibi büyümesi derelere muhtaç olan yüksek ağaçları vardı. Bazen bir karatavuk hıyabanın medhalinden girip ısıklık çalarak bu yeşil kubbenin altından sür'at-i taycıyanıyla geçerci. Bazen grup bu meşcereye aksedince ağaçların tepeleri ziyadan bir yeşil, ortaları uçuk pembe,gökleri mai görünürdü.**

Sami Paşazade Sezai'ye ait bir hikâyeden alınan bu bölümden yola çıkılarak Tanzimat Dönemi hikâyeleri için;

- I. uzun tasvirlerle yer verildiği,
- II. anlaşılması zor bir dile sahip olduğu,
- III. Anadolu ve Anadolu coğrafyasının tasvir edildiği

Yargılarından hangilerine ulaşamaz?

- A) Yalnız I B) Yalnız II C) Yalnız III
- D) I ve II E) II ve III

17. Millî Edebiyat Dönemi'nin önemli hikâyecilerinden olan Ömer Seyfettin, olay hikâyeciliğinin edebiyatımızdaki en önemli isimlerden biri olarak kabul edilir. Genç Kalemler dergisinde yayımladığı *Yeni Lisan* makalesi ile halk dilini savunan idealist bir yazar durumunda olmuştur. Konularını gündelik hayattan, tarihten, efsanelerden, çocukluk anılarından alan Ömer Seyfettin, olay hikâyeleri ile önemli bir edebî noktaya yükselmiştir. Bu hikâyelerinin bazıları şunlardır:

- I. Yüksek Ökçeler
- II. Bomba
- III. Yalnız Efe
- IV. Sır
- V. Beyaz Lale

Buna göre numaralanmış öncüllerden hangisinde bilgi yanlış vardır?

- A) I B) II C) III D) IV E) V

18. **Hüsn ü Aşk'tan:**

“Giydikleri âftâb-ı temmûz
İçtikleri şü-le-i cihân -suz

Vadileri rîk ü şişe-i gam
Kumlar sağışınca hüsn ü matem”

Bu dizeler hangi nazım şekline ait olabilir?

- A) Gazel B) Kaside C) Mesnevi
D) Şarkı E) Murabba

19. I. Dede Korkut Hikâyeleri
II. Mesneviler
III. Halk Hikâyeleri
IV. Tanzimat Dönemi Hikâyeleri
V. Millî Edebiyat Dönemi Hikâyeleri

Hikâye türünün Türk edebiyatındaki tarihî gelişimini araştıran bir kişi, numaralanmış eserlerden hangisini diğerlerinden daha önce incelemelidir?

- A) I B) II C) III D) IV E) V

20. Hikâyeler; olmuş ya da olması mümkün olayları kişi, yer, zaman gibi unsurlarla anlatan kısa ve derinlik içeren yazılardır. Okuyucuda estetik bir zevk uyandırır. Olaylar anlatılırken ayrıntıya inilmez, farklı teknikler kullanılabilir ve okuyucu bir hikâyeden kendince farklı anlamlar ve sonuçlar çıkartabilir.

Bu paragrafta “hikâye türünün özellikleri” ile ilgili aşağıdakilerden hangisine değinilmemiştir?

- A) Yoğun anlatıma sahip olduğuna
B) Çok anlamlı olduğuna
C) Estetik bir zevkle oluşturulduğuna
D) Kısa bir şekilde yazıldığına
E) Kalıplaşmış teknikler kullanıldığına

21. ---;

Kök Türk, Uygur, Karahanlı devirlerini kapsar. Türkler, birbirinden farklı bölgelerde yaşamalarına rağmen her zaman bu dile bağlı kalmışlardır.

Bu parçadaki boşluğa aşağıdaki ifadelerden hangisi getirilmelidir?

- A) Kuzey-Doğu Türkçesi
- B) Batı Türkçesi
- C) Eski Türkçe
- D) Türkiye Türkçesi
- E) Eski Anadolu Türkçesi

22. Mor Salkımlı Ev'de, kalabalık bir aile içinde Halide,

İ
içe kapanık bir çocuk olur. Saraylı Hanım teyzesi
II

ona *Afrika Seyahatnamesi* adlı bir kitap verir. Ha-

lide, okuma zevkine ilk olarak bu kitapta ulaşır.
III

Daha beş yaşında olmasına rağmen, babası ondaki
IV

okuma arzusunu görerek özel hoca tutar.
V

Bu parçada numaralanmış sözcüklerden hangileri fiillimsi görevindedir?

- A) I ve II
- B) II ve III
- C) II ve IV
- D) III ve IV
- E) IV ve V

23. Hani o bırakıp giderken seni

I
Bu öksüz tavrını takmayacaktın

Alnına koyarken veda buseni

Yüzüme bu türlü bakmayacaktın

Hani ey gözlerim bu son vedada

Yolunu kaybeden yolcunun dağda
II

Birini çağırarak için imdada
III

Yaktığı ateşi yakmayacaktın

Bu dizelerdeki numaralanmış fiilimsilerin türü aşağıdakilerin hangisinde verilmiştir?

	I	II	III
A)	Sıfat-fiil	Zarf-fiil	İsim-fiil
B)	İsim-fiil	Sıfat-fiil	Zarf-fiil
C)	Zarf-fiil	Sıfat-fiil	İsim-fiil
D)	Zarf-fiil	İsim-fiil	İsim-fiil
E)	Sıfat-fiil	Sıfat-fiil	İsim-fiil

24. Aşağıdaki cümlelerin hangisinde fiilimsinin üç türüne de örnek vardır?

- A) Mavi dergisi etrafında toplanan şairler, şiirin bütünüyle açık olamayacağı, anlam kapalılığının şiiri düzyazıdan ayıran önemli bir faktör olduğu görüşündedir.
- B) Öğretmenlik yaptığı yıllarda Anadolu'nun birçok yerini tanıma şansı bulan sanatçı, edebiyatımızda "Bayrak Şairi" olarak tanınır.
- C) Onun şiirlerinde kent yaşamının doğurduğu maddi ve manevi kirliliğin toplum üzerinde yaptığı tahribatı görmek mümkündür.
- D) O, şiir dilindeki semboller aracılığıyla geleneği güne ve geleceğe taşımaya çalışmıştır; böylece şiir geleneğini yeniden biçimlendirmiş ve yorumlamıştır.
- E) Olay hikâyelerinde bazen ilgi çekici bir olayın anlatımı sürer, bazen de çarpıcı bir sonla tamamlanan sıradan olayın anlatımı gerçekleşir.

25. Aşağıdakilerin hangisinde bir sıfat-fiil adlaşmıştır?

- A) Romanın kahramanı Ömer Behiç, Avrupa'da öğrenim görmüş, evli ve iki çocuklu bir doktordur.
- B) Halas, Mehmet Rauf'un konusunu Kurtuluş Savaşı'ndan aldığı son romanıdır.
- C) 20. yüzyılın ilk çeyreğinde Kurtuluş Savaşı'nı işleyenlerin başını Halide Edip ve Yakup Kadri çeker.
- D) Neriman sinirlendiği zaman asabi titreyişlerin kopardığı hırçın bir sesle söylenmeye başladılar.
- E) Selma Hanım, Yakup Kadri Karaosmanoğlu romanlarında ön plana çıkan kadın karakterlerdendir.

26. Çocukların gözlerindeki ışığı, kapıdan içeri gülerek
I
giren annenin yüzünde ki tebessüm kadar önem-
II
liydi benim için. Biliyorum ki onlar mutlu oldukça
III
ben de dünya da mutlu olacaktı. Düşüncelerim o
kadar açık ki aslında, seninkilerden çok farklı değil.
IV V

Bu parçadaki numaralanmış sözcüklerde yer alan "ki"lerden hangisinin yazımı yanlıştır?

- A) I B) II C) III D) IV E) V

27. Birgün Sokrates'in bir arkadaşı, halka Sokrates'ten
I II
daha bilgili kimsenin olup olmadığını sormuştur.
Halkın sözcüsü Sokrates'ten daha bilgili kimse ol-
madığını söylemiştir. Sokrates, bu olanlardan son-
III
ra bilgili bir insan olmadığı hâlde sözcünün neden
IV
böyle söylediğini düşünüp durmuştur.
V

Bu parçada numaralanmış sözcüklerden hangisinin yazımı yanlıştır?

- A) I B) II C) III D) IV E) V

28. Karşıdan gelen adam ufak tefek () zayıf bir adamdı () öbürü ise iri yarıydı () kolları omuzlarından iki yana serbest bir şekilde sarkıyordu ()

Bu parçada parantez () içinde gösterilen yerlere sırasıyla aşağıdaki noktalama işaretlerinden hangileri getirilmelidir?

- A) (,) (,) (,) (.)
 B) (,) (;) (,) (.)
 C) (;) (,) (;) (...)
 D) (:) (.) (:) (.)
 E) (,) (:) (,) (...)

30. Benim bildiğim (I) şair, esasen bireysel ve toplumsal dertlerin azabını çeken adamdır (II) Bir gözlemci olarak bir toplum tablosu çizen şair (III) bunu eğlenmek, zevklenmek için yapmaz. Ondan etkilenmese (IV) acı çekenlerin isteklerini kendi içinde derinlemesine hissetmese şiirleri o kadar içli olabilir mi (V)

Bu parçadaki numaralanmış yerlerden hangisine herhangi bir noktalama işareti getirilemez?

- A) I B) II C) III D) IV E) V

29. Ben, bana verilen görevleri yerine getirip iyi bir şekilde çalıştığımda güzel yerlerde olacağıma eminim.

Bu cümlede virgül (,) hangi görevde kullanılmıştır?

- A) Sıralı cümleleri ayırmak
 B) Özneyi belirtmek
 C) Ara sözü belirtmek
 D) Eş görevli sözcükleri ayırmak
 E) Alıntı bir sözü göstermek

1. Bu testte sırasıyla, Tarih (1–10), Coğrafya (11–20), Felsefe (21–25), Din Kültürü ve Ahlak Bilgisi (26–30) alanlarına ait toplam 20 soru vardır.
2. Cevaplarınızı, cevap kâğıdının Sosyal Bilimler Testi için ayrılan kısmına işaretleyiniz.

1.



Bu haritaya bakılarak;

- I. Bizans'a komşu olan beylikler hangileridir?
- II. Denizcilikle uğraşan beylikler hangileridir?
- III. Anadolu'nun siyasi yapısı nasıldır?

sorularından hangilerinin cevabına ulaşılabilir?

- A) Yalnız I B) Yalnız II C) I ve II
D) II ve III E) I, II ve III

2. Aşağıda Papa'nın Haçlı Seferleri ile ilgili çağrısı yer almaktadır.



Bizans çok zor durumdadır. Türkler Hristiyanlara kötü muamelede bulunuyor, kutsal yerlere hakaret ediyorlar. Sadece Bizans için değil, Kudüs için derhal harekete geçilmeli. Hristiyanlar birbirleriyle uğraşmayı bırakmalı ve zengin fakir demeden bu kutsal davaya herkes katılmalıdır. Bu sefere katılanların günahları affolunacak ve Tanrı, katılanlara rehberlik edecektir.

Papa II. Urban'ın konuşmasından yola çıkılarak Haçlı Seferleri ile ilgili olarak aşağıdakilerden hangisi söylenemez?

- A) Seferlere katılımı artırmak amacıyla din, siyasi emellere alet edilmiştir.
- B) Kutsal yerlerin kurtarılması hedeflenmiştir.
- C) Bizans'a da yardım edilmesi amaçlanmıştır.
- D) Seferlere katılmayanlar cezalandırılmıştır.
- E) Halkın birlikte hareket etmesi istenmiştir.

3.

Türkiye Selçukluları; Anadolu'da yaşayan gayrimüslimlere, Müslüman halka bir zarar vermedikleri sürece müsamaha ile davranmışlardır. Bizans'ın baskısından bıkan Hristiyanlar Türklerin hakimiyeti altında yaşamaktan memnun olmuştur. Selçukluların Anadolu'da sağladığı huzur ortamı, bölgedeki farklı din ve kavimlerin uyum içinde yaşamalarını ve ortak bir kültürün ortaya çıkmasını sağlamıştır.

Buna göre;

- I. Türkiye Selçuklu Devleti'nin gayrimüslimlere hoşgörülü davrandığı,
- II. Hristiyan halkın, Bizans yönetiminden memnun olmadığı,
- III. Selçuklular Dönemi'nde Anadolu'da farklı milletlerin huzur ve güven içinde birlikte yaşadığı

durumlarından hangilerine ulaşılabilir?

- A) Yalnız I B) Yalnız II C) I ve II
D) II ve III E) I, II ve III

4. Anadolu'nun Türkleştirilmesini devlet politikası haline getiren Büyük Selçuklu Devleti, Malazgirt Savaşı'nda Bizans'a karşı elde edilen zafer sonrasında Anadolu coğrafyasında beyliklerin kurulmasını sağlamıştır. Bu beylikler aşağıdaki haritada verilmiştir.



Haritadan da yararlanılarak bu bilgilerden hareketle aşağıdaki yargılardan hangisine ulaşamaz?

- A) Büyük Selçuklu Devleti cihat anlayışı doğrultusunda hareket etmiştir.
 B) Büyük Selçuklu Devleti ile Bizans arasında bölge hakimiyet mücadelesi yaşanmıştır.
 C) Büyük Selçuklu Devleti'nin öncülüğünde Anadolu'da kurulan ilk beylik Saltuklular olmuştur.
 D) Büyük Selçuklu Devleti, Batı Anadolu'da Türk kültürünün yayılmasına ortam hazırlamıştır.
 E) Büyük Selçuklu Devleti, Anadolu'nun siyasi yapısında değişimlerin yaşanmasına neden olmuştur.

5. XI. yüzyılda Bizans'ın egemenliği altındaki Anadolu topraklarında Rumlar ve Ermenilerle birlikte Süryaniler, Araplar ve Türkler bulunmaktaydı. Anadolu'da yaşayan bu halklar ekonomik olarak çok zor durumda olsalar da kendi yaşadıkları bölgelerde eski dillerini, adetlerini ve yaşayışlarını koruyabilmişlerdir.

Bu bilgilerden,

- I. Farklı etnik yapılar Anadolu'da varlık göstermiştir.
 II. Anadolu'da siyasi birlik sağlanamamıştır.
 III. Anadolu'da asayişin sağlanmasında Bizans devlet yönetimi etkili olmuştur.

yargılarından hangilerine ulaşılabilir?

- A) Yalnız I B) Yalnız III C) I ve III
 D) II ve III E) I, II ve III

6. • Anadolu'ya ilk Türk akınları IV. yüzyılın sonlarında Avrupa Hunları tarafından düzenlenmiştir.
 • Hunlardan sonra Anadolu'ya düzenlenen akınlar ise Sabarlar tarafından gerçekleştirilmiştir.
 • Anadolu'yu yurt edinme politikası ise Çağrı Bey'in Anadolu'ya düzenlediği keşif seferlerinden sonra ortaya çıkmıştır. Bu politika çerçevesinde Bizanslılarla Pasinler Savaşı (1048) yapılmış, Ani Kalesi (1064) alınmış, 1071 yılında da Bizans Ordusu büyük bir bozguna uğramıştır. Malazgirt Zaferi sonrasında Anadolu'da kurulan beylikler, kuruldukları bölgelerde Türkçe yerleşim isimleri kullanmıştır.

Bu bilgilerden aşağıdaki yargılardan hangisine ulaşamaz?

- A) Hunların ve Sabarların Anadolu'yu yurt edinme amaçlarının olmadığı
 B) Selçukluların, Anadolu'da kalıcı yerleşmeyi gerçekleştirmek istediği
 C) Selçukluların, Bizans'ın Anadolu'daki etkinliğinin azalmasına neden olduğu
 D) Anadolu'da kurulan beyliklerin, ulusçuluk anlayışı doğrultusunda çalışmalarda bulunduğu
 E) Selçukluların Anadolu'ya sefer düzenlemesinde ganimet elde etme amacının öne geçtiği

7. Danışmentliler ile ilgili bilgilerden bazıları şunlardır:
- 1080-1178 yılları arasında hüküm sürmüştür.
 - Haçlı Seferleri'nin başlamasıyla birlikte Danışment-Selçuklu çekişmesi Haçlılara karşı dayanışmaya ve ortak mücadeleye dönüşmüştür.
 - Danışmentlilerin yaptığı hizmetler, Danışmentname adlı manzum türdeki eserde anlatılmıştır.
 - Danışmentliler ilim ve fen alanında çalışma yapan kişilere değer vermiştir.

Bu bilgilerden Danışmentlilerle ilgili aşağıdaki yargılardan hangisine ulaşamaz?

- A) XI. ve XII. yüzyılda varlık göstermişlerdir.
 B) Türk-İslam dünyasına hizmet etmişlerdir.
 C) Anadolu'daki siyasi karışıklık, sınırlarının genişlemesinde etkili olmuştur.
 D) Kültürel alanda çalışmalarda bulunmuşlardır.
 E) Pozitif bilimlere önem vermişlerdir.

8. Türkler, tarih sahnesine çıktıkları andan itibaren gerek ana yurt olarak bilinen Orta Asya'da gerekse göç edilen bölgelerde köklü devletler kurmuşlardır. Hun, Kök Türk, Uygur, Karahanlı, Gazneli, Selçuklu, Osmanlı ve Türkiye Cumhuriyeti Devleti birlikte düşünüldüğünde tarihin hemen her döneminde bağımsız bir Türk devletinin kurulması bu durumun kanıtıdır.

Bu bilgilerden Türklerle ilgili olarak;

- I. devlet kurma idealine sahip oldukları,
 II. Türk kültürünün farklı bölgelere yayılmasında etkili oldukları,
 III. ahiret inancını benimsedikleri

yargılarından hangilerine ulaşamaz?

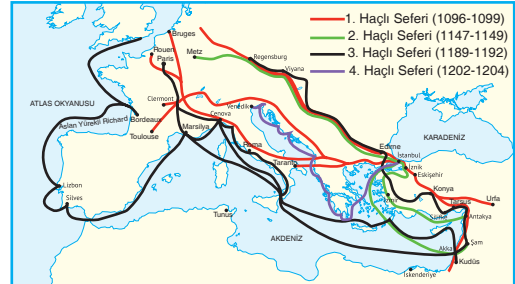
- A) Yalnız I B) Yalnız II C) Yalnız III
 D) I ve II E) I, II ve III

9. Türkler, Orta Asya'daki ilk dönemlerinden itibaren boylar birliği şeklinde teşkilatlanmıştır. Bu teşkilatlanmada Türk toplumunun en küçük yapısını "oğuş" denilen aile oluşturmuştur. En büyük siyasi teşkilat olan devlete ise il veya el denilmiştir.

Buna göre, Türk toplum yapısının üye sayısı bakımından az olandan çok olana doğru sıralaması aşağıdakilerden hangisidir?

- A) Oğuş – Uruğ – Boy – Bodun – İl
 B) Oğuş – Uruğ – Bodun – Boy – İl
 C) Oğuş – Bodun – Boy – Uruğ – İl
 D) Oğuş – Boy – Uruğ – Bodun – İl
 E) Oğuş – Boy – Bodun – Uruğ – İl

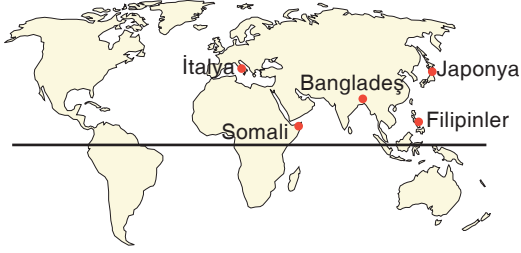
10.



Nedenleri arasında Kudüs gibi kutsal yerleri ele geçirmek olan 1096-1204 yılları arasında etkili olan Haçlı Seferleri ile ilgili bu haritadan aşağıdaki yargılardan hangisine ulaşamaz?

- A) İstanbul, bazı seferlerin güzergahları üzerinde yer almıştır.
 B) Seferler Akdeniz liman şehirlerindeki hareketliliğin artmasına ortam hazırlamıştır.
 C) Bazı seferler, ağırlıklı olarak karadan yapılmıştır.
 D) Haçlı Seferleri Malazgirt Savaşı sonrasında düzenlenmiştir.
 E) Haçlı Seferleri XIII. yüzyılın sonlarında sona ermiştir.

11. Tsunami, Japonca'da "liman dalgası" anlamına gelir. Okyanus ya da deniz tabanında meydana gelen deprem, volkan patlaması ve bunlara bağlı taban çökmesi, zemin kayması gibi olaylar sonucu oluşan dev dalgalardır.



Buna göre levhaların konumları dikkate alınır-
sa haritada verilen yerlerin hangisinde tsunami
oluşma riski en azdır?

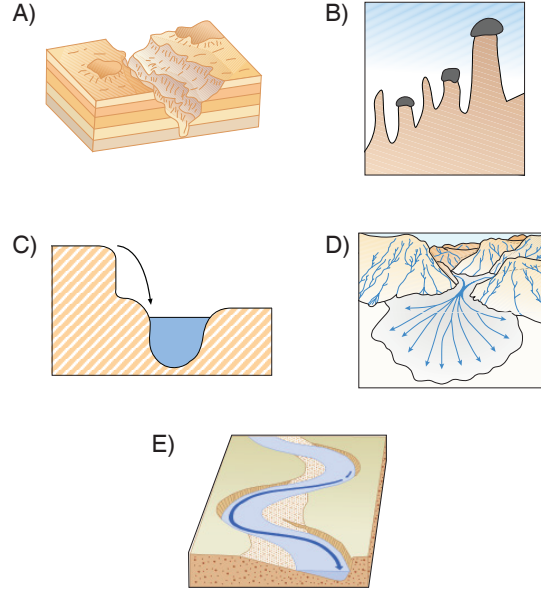
- A) İtalya B) Somali C) Bangladeş
D) Japonya E) Filipinler

12. Sial ve simadan oluşan yer kabuğu, manto üzerinde belirli bir dengede durur. Bu olaya izostatik denge adı verilir. Bu denge bozulduğunda yer kabuğu toptan yükselip alçalmaya uğrar. Bu olaya epirojenez denir.

Aşağıda verilenlerden hangisi izostatik dengeyi bozarak epirojenez neden olan olaylardan biri değildir?

- A) Çukur alanlarda alüvyon birikmesi
B) Volkanik püskürmelerle kalın lav örtülerinin birikmesi
C) Killi malzemelere bağlı olarak sıklıkla heyelanların görülmesi
D) Karaların uzun süre erozyona uğraması
E) Karalar üzerinde kalın buz örtülerinin oluşması

13. Volkanik tüfleri; akarsuların doğrudan, rüzgârların ise dolaylı aşındırmasına bağlı olarak oluşan yer şekli aşağıdakilerden hangisidir?



14. • Fırat
• Aras
• Çoruh
• Dicle

Bu akarsuların ortak özelliği aşağıdakilerden hangisidir?

- A) Boyları uzundur.
B) Akımları düşüktür.
C) Kaynağını Türkiye'den alıp yurt dışına akarlar.
D) Karstik kaynaklarla beslenirler.
E) Hidroelektrik potansiyelleri düşüktür.

15. Aşağıda dört farklı toprak türüne ait bazı özellikler verilmiştir.

- Serin ve nemli iklim bölgelerinde iğne yapraklı ormanlar altında oluşan topraklardır.
- Volkanik arazilerde yumuşak unsurların akarsular tarafından taşınıp biriktirilmesiyle oluşan topraklardır.
- Nemli karasal iklim bölgelerinde uzun boylu çayırlar altında gelişen mineral madde bakımından zengin topraklardır.
- Yılın büyük bir bölümünde donmuş halde bulunan alanlarda sıcak devrede çözünen, organik madde bakımından zengin topraklardır.

Buna göre, verilen topraklar arasında aşağıdakilerden hangisi yoktur?

- A) Regosol
- B) Tundra
- C) Podzol
- D) Çernozyom
- E) Terra rossa

16. I. Alp-Himalaya dağ sisteminin oluşması
II. Kara parçalarının çekirdek kısımlarının oluşması
III. Taş kömürü yataklarının oluşması
IV. Sıcaklıkların artması ve bugünkü iklimlerin oluşması

Bu olayların oluştukları zamana göre günümüze en uzaktan en yakından olana doğru sıralanışı aşağıdakilerden hangisinde verilmiştir?

- A) I – II – III – IV
- B) I – III – II – IV
- C) II – III – I – IV
- D) III – II – I – IV
- E) IV – III – II – I

17. Öğretmen derste öğrencilere Dünya'nın iç yapısı ile ilgili bilgi verirken; "Yer kabuğu; sıcaklık, yoğunluk ve kalınlık bakımından üç katmandan oluşur. Bunlar; yer kabuğu, manto ve çekirdektir." dedikten sonra, bu katmanlarla ilgili neler bildiklerini sormuş. Öğrencilerden bazıları da aşağıdaki bilgileri vermişlerdir:

Ahmet: Yer kabuğu, Dünya'nın dış kısmını oluşturur ve katı yapıya sahiptir.

Can: Yer kabuğu, sial ve sima katmanından oluşmaktadır.

Ayşe: Manto yer kabuğu içinde sial ve sima katmanları arasında yer alır astenosfer olarak da adlandırılır.

Mehmet: Çekirdek, Dünya'nın en ağır, en yoğun ve en sıcak katmandır.

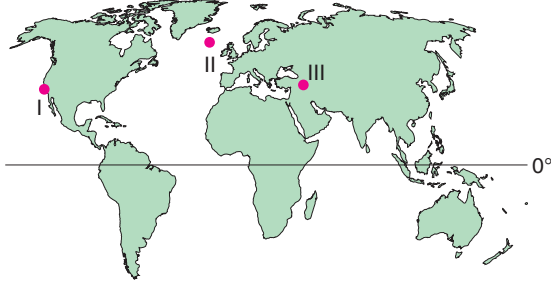
Fatma: Sima katmanı dağların altında kalın, okyanusların altında incedir.

Hangi öğrencilerin, yerin katmanları ile ilgili yapmış oldukları açıklamalar yanlıştır?

- A) Yalnız Ayşe
- B) Yalnız Ahmet
- C) Can ve Ayşe
- D) Ayşe ve Fatma
- E) Ahmet ve Can

18. Aşağıda, Dünya'daki önemli deprem kuşakları ile ilgili bazı bilgiler verilmiştir.

- Alp-Himalaya kuşağı, Akdeniz çevresi Alpler ile Hindistan'ın doğusuna kadar uzanan doğu-batı doğrultulu bir kuşaktır.
- Atlas Okyanusu orta kesimi deprem kuşağı, Asor adaları ve İzlanda arasında uzanan kuşaktır.
- Büyük Okyanus kıyıları (Pasifik Kuşağı–Ateş Çemberi) deprem kuşağı, Asya kıtası doğusu–Amerika kıtası batısı kıyılarındaki yer alan kuşaktır.



Bu haritada numaralanmış alanların yer aldığı kuşaklar aşağıdakilerin hangisinde doğru verilmiştir?

	Alp-Himalaya Kuşağı	Atlas Okyanusu Sırtı Kuşağı	Büyük Okyanus Kıyıları Kuşağı
A)	I	II	III
B)	II	III	I
C)	III	II	I
D)	I	III	II
E)	III	I	II

19. Anadolu bugünkü görünümünü IV. jeolojik zaman başlarında yaşanan oluşumlar sonucunda kazanmıştır.

Buna göre, aşağıdakilerden hangisi günümüze en yakın zamanda oluşmuştur?

- A) Volkanik dağlar
- B) Masif araziler
- C) Kıvrımlı dağlar
- D) Karadeniz çukurluğu
- E) Kırıklı dağlar

20. Atlas Okyanusu altında yer alan, Kuzey Amerika ve Avrasya levhaları birbirinden uzaklaşmaktadır. Bu levhaların altında bulunan mantodaki konveksiyonel akımlar yer kabuğunu harekete geçirir.

Bu levha sınırları üzerinde İzlanda adası bulunur ve mantoda oluşan konveksiyon akımlardan fazla etkilenir.

Buna göre, İzlanda adasında görülen aşağıdaki olaylardan hangisinin oluşumunda mantodaki konveksiyonel akımların etkisi olmamıştır?

- A) Aktif volkanlara sahip olması
- B) Ada üzerinde çok sayıda gayzerin bulunması
- C) Deprem olaylarına sık rastlanması
- D) Sıcak okyanus akıntıları etkisinde kalması
- E) Sıcak termal su kaynaklarının bulunması

21. Felsefede herkes için ortak, bütün zamanlar için geçerli bir doğruluk değerinden söz etmek mümkün değildir. Felsefe tarihine bakıldığında filozoflar, aynı konuda, aynı hareket noktasından ve aynı verilerden hareket etseler bile kişisel bakış farklılıklarından dolayı, hiçbir filozofun tıpatıp bir başkasınıkiyle aynı sistem kurduğu görülmemiştir. Bunun tam tersi bir durum olsaydı, bu felsefe değil, bilim olurdu.

Bu parçada, aşağıdaki görüşlerden hangisi vurgulanmaktadır?

- A) Felsefede üretilen bilgiler deney ve gözleme dayalıdır.
- B) Her felsefi sistem kendi içinde tutarlı olduğu için evrenseldir.
- C) Filozofların sistemleri öznedir, kişisel yaratıcılığa dayanır.
- D) Felsefi sistemleri oluşturan çağın ve toplumun koşullarıdır.
- E) Felsefede yer alan görüşler bütüncül olarak açıklanmaya çalışılır.

22. Platon: “Düşünmek, ruhun kendi kendine konuşmasıdır.” demiştir. Kendilerini gözlemleyip iç sesini dinleyen insanlar her an kendisini düşünce zincirinin arasında bulabilir. İnsanlar kim olduklarına dair yargılarla ve kendi zihinlerinde oluşturdukları kişilik imgesi ile dolu bir rüyada yaşamaktadır. Felsefe ise bu rüyadan bilinçli bir şekilde uyanmaktır. İnsan böylece öz bilincine ulaşır, kendini tanır ve hayatının kör noktalarını öz farkındalığa erişerek aydınlatır.

Bu parçada felsefenin hangi özelliğinden söz edilmiştir?

- A) İnsana kendini tanıma olanağı sunması
- B) Kendi içinde tutarlı olması
- C) Kavramların anlamını analiz etmesi
- D) Toplumsal sorunlara çözüm üretmesi
- E) Düşünmenin kurallarını belirlemesi

23. Her şey felsefenin konusu olabildiğine göre; Felsefe, Filozof, Düşünce, Nesne nedir? Soruları da felsefenin cevap araması gereken soruları arasında yer alır. Bir diğer ifadeyle; kendi düşünce sistematüğince sorgulama yapan felsefe, kendi sistematüğünü ve kurallarını da sorgulamaya alır. Böyle yapar ki, felsefe gerçek bir düşünce ürünü olabilsin, dogmalarla hareket etmesin.

Bu parçada felsefenin hangi özelliğinden söz edilmiştir?

- A) Kurgusal olması
- B) Sistemli olması
- C) Evrensel olması
- D) Refleksif olması
- E) Tutarlı olması

24. Görüşlerin oluşmasını eğitim, yaşam çevresi, inançlar, kültürel ve ahlaki normlar, ekonomik-sosyal durum, edinilen deneyim ve bilgiler etkiler. Bu etkenler aynı zamanda insanların kendilerine özgü bakış açıları geliştirmelerine de imkân sağlar.

Buna göre aşağıdaki ifadelerden hangisi bir görüş içermez?

- A) Kırmızı en güzel renktir.
- B) Altın madendir.
- C) Seyahat etmek insanı geliştirir.
- D) İnsan en değerli varlıktır.
- E) Kitapların yararlı olduğunu düşünüyorum.

25. “Ali, Selim, Murat, Nazlı, Fazilet gibi sınıfımızdaki birçok öğrenci felsefe grubu derslerine ilgi duyuyor. O hâlde bizim sınıfın tümü felsefe grubu dersleriyle yakından ilgileniyor.”

diylen bir öğrenci, aşağıdaki akıl yürütme yollarından hangisi ile bu sonuca ulaşmıştır?

- A) Tümdengelim
- B) Analoji
- C) Diyalektik
- D) Tümevarım
- E) Kurgusalılık

26. Allah’a (c.c.) inanmak insanın hayatında olumlu değişiklikler yapar. Bunun nedeni imanın; duygu, düşünce ve davranışlar üzerinde etkili olmasıdır. İnsan büyük oranda inancına göre görür, düşünür ve davranışlar sergiler. Bu durumu açıklayan birçok ayet ve hadis bulunmaktadır.

Aşağıdaki ayet ve hadislerden hangisi verilen parçaya uygun düşmez?

A) “Onlar ki bollukta da darlıkta da Allah için harcarlar; öfkelerini yutarlar ve insanları affederler. Allah da güzel davranışta bulunanları sever.”

(Âl-i İmrân, 134. ayet)

B) “İman edip iyi işler yapan, namaz kılan ve zekât verenler var ya, onların mükâfatları Rableri katındadır. Onlara korku yoktur, onlar üzüntü de çekmezler.”

(Bakara, 277. ayet)

C) “Hiç bilenlerle bilmeyenler bir olur mu?”

(Zümer, 9. ayet)

D) “Hiçbiriniz kendisi için istediğini (mümin) kardeşi için istemedikçe (gerçek) iman etmiş olamaz.”

(Hadis-i Şerif)

E) “İman etmedikçe cennete giremezsiniz, birbirinizi sevmedikçe de iman etmiş olmazsınız.”

(Hadis-i Şerif)

27. "Senden önce hiçbir peygamber göndermedik ki, ona: "Benden başka ilah yoktur, şu hâlde bana kul-luk edin" diye vahyetmiş olmayalım"

(Enbiya, 25. ayet)

"Ben ve benden önceki peygamberlerin en önem-li çağırısı, bir olan, eşi ortağı bulunmayan Allah'tan başka Tanrı yoktur."

(Hadis-i Şerif)

Bu ayet ve hadisin ortak yönü aşağıdakilerden hangisidir?

- A) Dinin evrensel olduğunu belirtmeleri
- B) Peygamberlerin her yönüyle örnek olduklarını anlatmaları
- C) İlim öğrenmenin gereğini vurgulamaları
- D) Ahiret inancını vurgulamaları
- E) Şirke karşı çıkmaları

28. "O ki birbiri ile âhenkli yedi göğü yaratmıştır. Rah-mân olan Allah'ın yaratışında hiçbir uygunsuzluk göremezsin. Gözünü çevir de bir bak, bir bozukluk görebiliyor musun? Sonra gözünü, tekrar tekrar çevir bak; göz (aradığı bozukluğu bulmaktan) âciz ve bitkin halde sana dönecektir."

(Mülk, 3-4. ayetler)

Bu ayet aşağıda yer alan Allah'ın (c.c.) varlığı ve birliğiyle ilgili delillerden hangisine vurgu yap-maktadır?

- A) Gaye ve nizam delili
- B) Ekmel varlık delili
- C) Tevhit delili
- D) Fıtrat delili
- E) Hudûs delili

29. "Allah, kendisinden başka ilâh olmayandır. En güzel isimler O'na mahsustur."

(Taha, 8. ayet)

Bu ayette geçen Allah'ın(c.c.) güzel isimlerine ne ad verilir?

- A) Fetva
- B) Sahabe
- C) Esmâ-ül Hüsna
- D) Fecr- i sadık
- E) Alemler

30. "Yeryüzünde bulunan her şey fanidir. Sadece o ba-ğış ve celal sahibi Rabbinin yüzü kalacaktır."

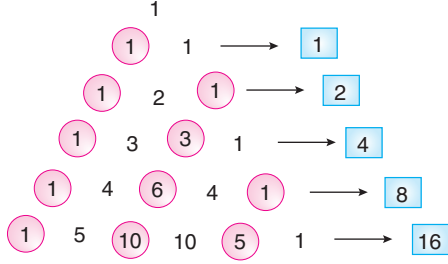
(Bakara, 26 - 27. ayetler)

Bu ayetlerde Allah'ın (c.c.) hangi sıfatından söz edilmiştir?

- A) Kıdem
- B) Beka
- C) Kudret
- D) Semi
- E) Basar

1. Bu testte toplam 30 soru vardır.
2. Cevaplarınızı, cevap kâğıdının Temel Matematik Testi için ayrılan kısmına işaretleyiniz.

1. Aşağıda, Pascal üçgeninin her satırında bazı sayılar belli bir kurala göre yuvarlak içine alınmıştır.

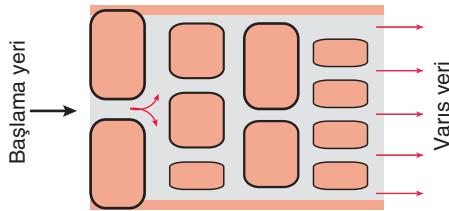


Yuvarlak içine alınan sayıların toplamı her satırın yanındaki mavi dikdörtgenin içine yazılmıştır.

Buna göre, ilk iki elemanı 1 ve 20 olan satırın sonundaki mavi kare içine yazılacak olan sayı kaçtır?

- A) 2^{15} B) 2^{16} C) 2^{17} D) 2^{18} E) 2^{19}

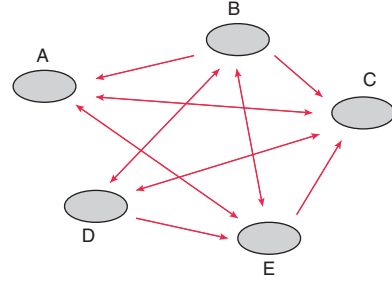
2. Bir öğrenci, aşağıdaki bloklar arasından geçip varış yerine ulaşacaktır.



Bu öğrenci; başlama yerinden itibaren ileriye, sağa ya da sola giderek ve bir geçtiği yerden bir daha geçmeyerek varış yerine kaç farklı yoldan ulaşabilir?

- A) 12 B) 48 C) 56 D) 60 E) 90

3. Aynı sınıfta okuyan 5 arkadaşın her biri A, B, C, D ve E mahallelerinden birinde oturmaktadır.



- Mahalleler arasında toplu ulaşım aracının giriş-geliş durumları oklarla belirtilmiştir. İki ucunda da ok olan gösterimlerde her iki mahalleden diğerine gidilebildiği, bir ucunda ok olan gösterimlerde sadece ok yönünde gidilebildiği anlatılmaktadır.
- Yolcular her mahallede araç değiştirmek zorundadır.

Bu 5 arkadaş bir hafta sonu D mahallesinde oturan arkadaşlarının evinde toplanmaya karar verdiler. Diğer dört arkadaş, en az araç değiştirerek bu toplantıya gidip döneceklerdir.

Buna göre, bu dört arkadaş toplam kaç araçla yolculuk yapacaklardır?

- A) 8 B) 9 C) 10 D) 11 E) 12

4. Ahmet'in 2 kot pantolonu, 3 kumaş pantolonu, 4 tişörtü, 3 gömleği vardır.

Ahmet, ya kot pantolon ile tişört ya da kumaş pantolon ile gömlek giyecektir.

Buna göre Ahmet, kaç farklı biçimde giyinebilir?

- A) 12 B) 17 C) 32 D) 45 E) 72

5. **BİLGİ**

$n \in \mathbb{N}^+$ olmak üzere, $n! = 1 \cdot 2 \cdot 3 \cdot \dots \cdot n$ 'dir.

$0! = 1$ olarak tanımlanır.

$n!$ ifadesi, "n faktöriyel" şeklinde okunur.

Bir doğal sayının faktöriyeline eşit olan sayılara Wilson Sayıları denir. Wilson Sayıları kümesi " \mathbb{W} " olsun.

Buna göre, $\mathbb{N} - \mathbb{W}$ kümesinin elemanları küçükten büyüğe doğru sıralandığında 1000. sayı kaçtır?

- A) 1005 B) 1006 C) 1007
D) 1008 E) 1009

6. Aşağıda, bir cafenin menüsü verilmiştir.



Burak ve Onur, bu menüye baktıklarında Burak bir içecek ve bir tatlı, Onur bir içecek veya bir tatlı sipariş etmeye karar veriyorlar.

Buna göre, ikisi birlikte siparişlerini kaç farklı şekilde verebilirler?

- A) 19 B) 48 C) 84 D) 108 E) 144

7. KARNE

kelimesinin harfleri yer değiştirilerek elde edilebilecek anlamlı-anlamsız bütün kelimeler alfabetik sıradada yazılıyor.

Bu kelime dizisinin 75. kelimesi aşağıdakilerden hangisidir?

- A) NAEKR B) NAKER C) NAERK
D) NAKRE E) NARKE